

注意 字数が指定されている設問では、「」や「。」も一ます使いなさい。

① 次の文章は『旅に出よう』（近藤雄生 著）からの文章である。これを読んで、問一～問三に答えなさい。

問一 波線部⑦、⑧の片仮名の部分を漢字に直して楷書で書きなさい。

問二 筆者が、旅の中で感じたことを二十五字程度で一つ書きなさい。

問三 次の文章は、正夫さんが、お世話になった先生に書いた手紙である。これを読んで、①、②に答えなさい。

拝啓

残暑お見舞い申し上げます。毎日蝉が鳴いておりますが、いかがお過ごしでしょうか。

さて、私は『旅に出よう』という本を読みました。とても面白い本なので、是非読んでみてください。

A

ですから、私は旅に出てみようと思います。また、ご報告します。

時節柄、お体を大切にしてください。

敬具

B 月九日

寺田大介先生

西山正夫

約八〇〇字の文章に波線が施されています。

著作権の関係上、掲載できません。

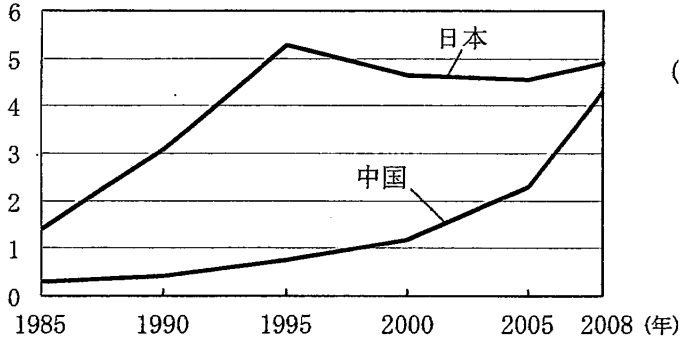
- ① A に当てはまる文章を、次の三つのことばの中から一つ選び、それを用いて六十字程度で書きなさい。
- ・ 井の中の蛙大海を知らず。
 - ・ かわいい子には旅をさせよ。
 - ・ 百聞は一見にしかず。

② B に入れるのに適当な月を漢数字で書きなさい。また、その月名の英単語を書きなさい。

2 健太さんと花子さんは、夏休みの自由研究のテーマを「日本と世界の経済」とすることに決め、健太さんは「日本と中国の経済」に関する資料1～資料4を、花子さんは「日本とアメリカ合衆国の経済」に関する資料5を持ち寄って話し合った。問1、問2に答えなさい。

資料1 日本と中国のGDP（国内総生産）の推移

(兆米ドル)

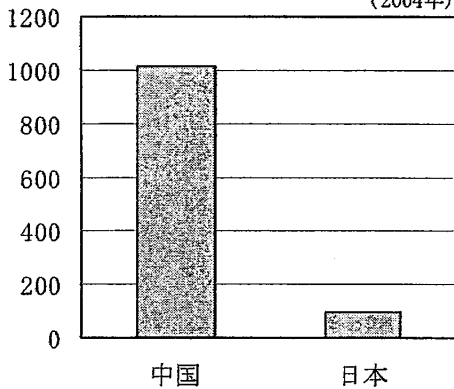


(注) GDP（国内総生産）とは、国内において、一年間に新たに生産された財とサービスの合計であり、一国の経済規模を示す指標として用いられる。

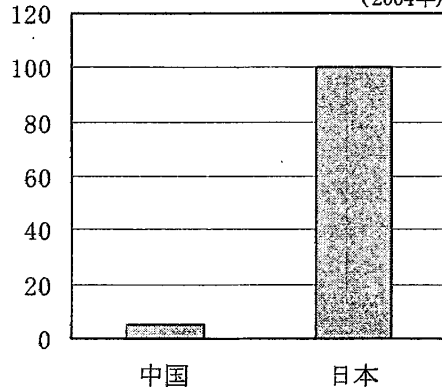
(「世界の統計2010」から作成)

資料2 日本と中国の比較

人口の比較 (2004年)



平均賃金の比較 (2004年)

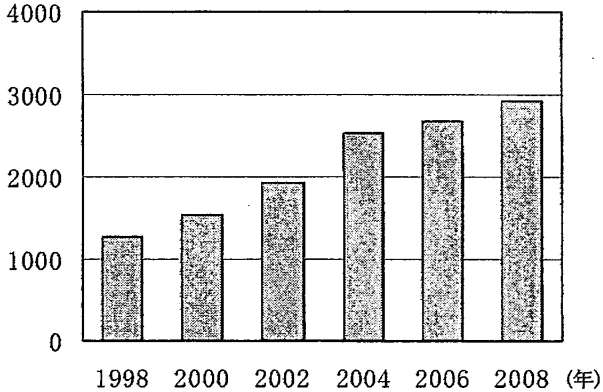


(「世界の統計2008」から作成)

(注) 日本を100として、中国との比較を示したグラフである。
平均賃金は、製造業従事者のものである。

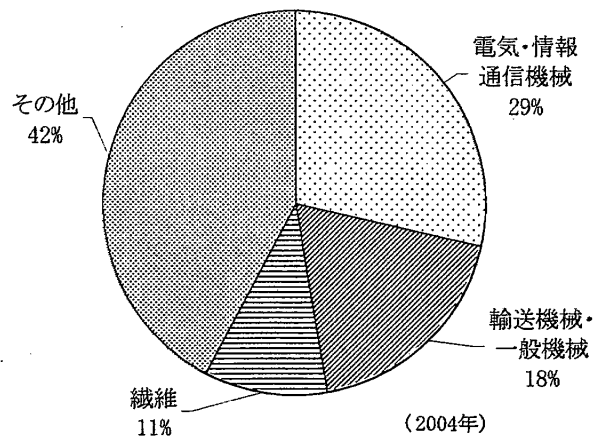
資料3 中国へ工場進出した日本企業の数の推移

(社)

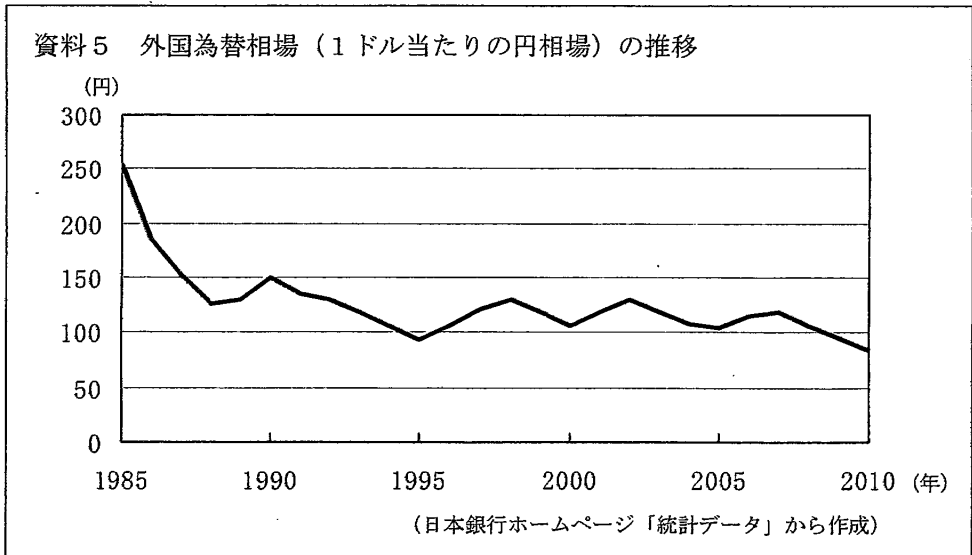


(経済産業省「海外事業活動基本調査」から作成)

資料4 中国へ工場進出した日本企業の業種別割合



(経済産業省「海外事業活動基本調査」から作成)



問1 健太さんと花子さんは、資料1～資料4を基に意見を出し合った。次の文章は、その会話の一部である。

健太：これらの資料を結びつけてみると、中国の経済発展と日本企業の中国への工場進出には、何か関係がありそうだね。

花子：そうね。日本のような先進国の企業を積極的に受け入れることは、中国の経済発展の原動力になっていると思うわ。でも、日本企業はなぜ中国へ工場進出するのかなあ。

健太：その理由は、二つの資料を基に説明できるよ。

健太さんの説明

花子：ありがとう。健太さんの説明でよくわかったわ。

あなたが健太さんになったつもりで、健太さんの説明に必要な二つの資料の番号を資料1～資料4のうちから選んで書き、日本企業が中国へ工場進出する理由を、選んだ二つの資料の内容にふれながら説明しなさい。

問2 健太さんと花子さんは、資料5を基に話し合った。次の文章は、その会話の一部である。①、②に答えなさい。

花子：資料5をみると外国為替相場は、1985年と比べて2010年には、ずいぶん円 (ア) ドル (イ) に推移したと言えるわね。

健太：そうだね。日本のように貿易の活発な国は、外国為替相場の変動の影響が大きいと思うよ。花子さんが言うように外国為替相場が推移した場合、日本の企業はどのような影響を受けるのかな。例をあげながら、いっしょに考えていこうよ。

花子：そうね。例えば・・・

花子さんの例と説明

健太：ありがとう。花子さんの例と説明はとてもわかりやすかったよ。

- ① 花子さんの発言が正しくなるように、文章中の (ア) , (イ) に当てはまる漢字を、それぞれ一字で書きなさい。
- ② ①で答えたように外国為替相場が推移した場合、日本の企業はどのような影響を受けるか。あなたが花子さんになったつもりで、具体的な例を書きなさい。また、なぜそのような影響を受けるのか説明しなさい。